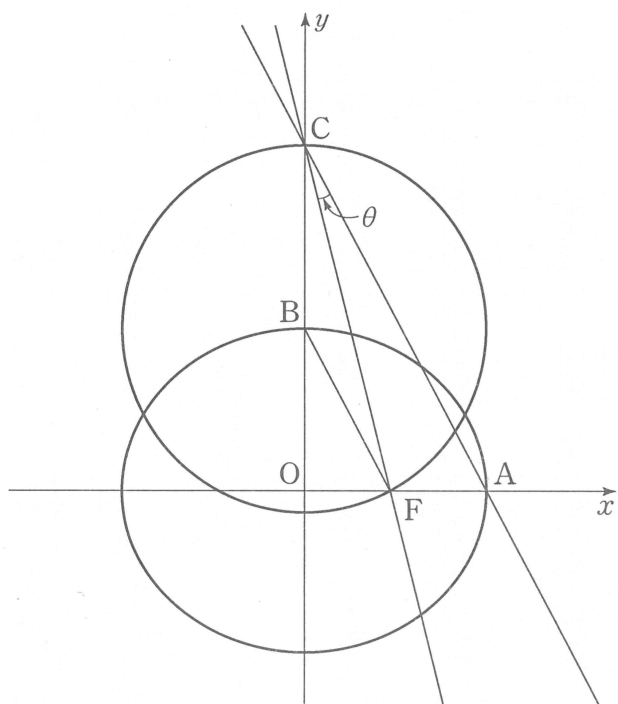


6.7

**평가원
분석**

1. 준킬러

17. 그림과 같이 한 초점이 $F(c, 0)$ 인 타원 $\frac{x^2}{a^2} + \frac{y^2}{b^2} = 1$ 과 두 점 $A(a, 0)$, $B(0, b)$ 가 있다. 점 B 를 중심으로 하고 점 F 를 지나는 원이 y 축과 만나는 점 중에서 y 좌표가 양수인 점을 C 라 할 때, 직선 CF 와 직선 CA 가 이루는 예각의 크기를 θ 라 하자. $\tan(\angle CFB) = \frac{1}{4}$ 일 때, $\tan\theta$ 의 값은? (단, a, b, c 는 양수이다.) [4점]



- ① $\frac{36}{145}$ ② $\frac{41}{145}$ ③ $\frac{46}{145}$ ④ $\frac{51}{145}$ ⑤ $\frac{56}{145}$

19. 0이 아닌 실수 p 에 대하여 좌표평면 위의 두 포물선 $x^2 = 2y$ 와 $\left(y + \frac{1}{2}\right)^2 = 4px$ 에 동시에 접하는 직선의 개수를 $f(p)$ 라 하자. $\lim_{p \rightarrow k^+} f(p) > f(k)$ 를 만족시키는 실수 k 의 값은? [4점]

- ① $-\frac{\sqrt{3}}{3}$ ② $-\frac{2\sqrt{3}}{9}$ ③ $-\frac{\sqrt{3}}{9}$ ④ $\frac{2\sqrt{3}}{9}$ ⑤ $\frac{\sqrt{3}}{3}$

20. 자연수 n 에 대하여 $2a+2b+c+d=2n$ 을 만족시키는 음이 아닌 정수 a, b, c, d 의 모든 순서쌍 (a, b, c, d) 의 개수를 a_n 이라 하자. 다음은 $\sum_{n=1}^8 a_n$ 의 값을 구하는 과정이다.

음이 아닌 정수 a, b, c, d 가 $2a+2b+c+d=2n$ 을 만족시키려면 음이 아닌 정수 k 에 대하여 $c+d=2k$ 이어야 한다.
 $c+d=2k$ 인 경우는 (1) 음이 아닌 정수 k_1, k_2 에 대하여 $c=2k_1, d=2k_2$ 인 경우이거나 (2) 음이 아닌 정수 k_3, k_4 에 대하여 $c=2k_3+1, d=2k_4+1$ 인 경우이다.

(1) $c=2k_1, d=2k_2$ 인 경우 :

$2a+2b+c+d=2n$ 을 만족시키는 음이 아닌 정수 a, b, c, d 의 모든 순서쌍 (a, b, c, d) 개수는 \square (가) 이다.

(2) $c=2k_3+1, d=2k_4+1$ 인 경우 :

$2a+2b+c+d=2n$ 을 만족시키는 음이 아닌 정수 a, b, c, d 의 모든 순서쌍 (a, b, c, d) 개수는 \square (나) 이다.

(1), (2)에 의하여 $2a+2b+c+d=2n$ 을 만족시키는 음이 아닌 정수 a, b, c, d 의 모든 순서쌍 (a, b, c, d) 의 개수 a_n 은

$$a_n = \square \text{ (가)} + \square \text{ (나)}$$

이다. 자연수 m 에 대하여

$$\sum_{n=1}^m \square \text{ (나)} = {}_{m+3}C_4$$

이므로

$$\sum_{n=1}^8 a_n = \square \text{ (다)}$$

이다.

위의 (가), (나)에 알맞은 식을 각각 $f(n), g(n)$ 이라 하고, (다)에 알맞은 수를 r 이라 할 때, $f(6)+g(5)+r$ 의 값은?
 [4점]

- ① 893 ② 918 ③ 943 ④ 968 ⑤ 993

28. 자연수 $n (n \geq 3)$ 에 대하여 집합 A 를

$$A = \{(x, y) \mid 1 \leq x \leq y \leq n, x \text{와 } y \text{는 자연수}\}$$

라 하자. 집합 A 에서 임의로 선택된 한 개의 원소 (a, b) 에 대하여 b 가 3의 배수일 때, $a=b$ 일 확률이 $\frac{1}{9}$ 이 되도록 하는 모든 자연수 n 의 값의 합을 구하시오. [4점]

2. 틀리면 수능 1년 연기

11. $\int_1^{\sqrt{2}} x^3 \sqrt{x^2-1} dx$ 의 값은? [3점]

- ① $\frac{7}{15}$ ② $\frac{8}{15}$ ③ $\frac{3}{5}$ ④ $\frac{2}{3}$ ⑤ $\frac{11}{15}$

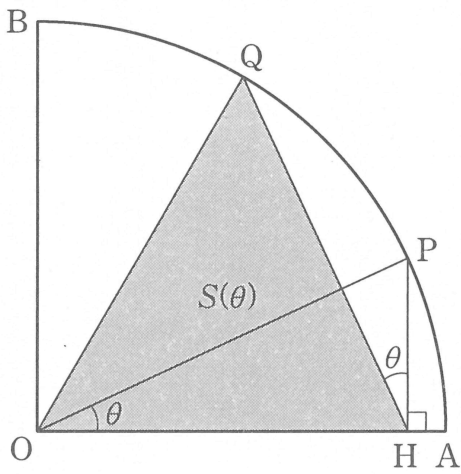
15. 함수 $f(x) = a \cos(\pi x^2)$ 에 대하여

$$\lim_{x \rightarrow 0} \left\{ \frac{x^2+1}{x} \int_1^{x+1} f(t) dt \right\} = 3$$

일 때, $f(a)$ 의 값은? (단, a 는 상수이다.) [4점]

- ① 1 ② $\frac{3}{2}$ ③ 2 ④ $\frac{5}{2}$ ⑤ 3

16. 그림과 같이 반지름의 길이가 1이고 중심각의 크기가 $\frac{\pi}{2}$ 인 부채꼴 OAB가 있다. 호 AB 위의 점 P에서 선분 OA에 내린 수선의 발을 H라 하고, 호 BP 위에 점 Q를 $\angle POH = \angle PHQ$ 가 되도록 잡는다. $\angle POH = \theta$ 일 때, 삼각형 OHQ의 넓이를 $S(\theta)$ 라 하자. $\lim_{\theta \rightarrow 0^+} \frac{S(\theta)}{\theta}$ 의 값은? (단, $0 < \theta < \frac{\pi}{6}$) [4점]



- ① $\frac{1+\sqrt{2}}{2}$ ② $\frac{2+\sqrt{2}}{2}$ ③ $\frac{3+\sqrt{2}}{2}$ ④ $\frac{4+\sqrt{2}}{2}$ ⑤ $\frac{5+\sqrt{2}}{2}$

3. 킬러

21. 열린 구간 $\left(-\frac{\pi}{2}, \frac{3\pi}{2}\right)$ 에서 정의된 함수

$$f(x) = \begin{cases} 2\sin^3 x & \left(-\frac{\pi}{2} < x < \frac{\pi}{4}\right) \\ \cos x & \left(\frac{\pi}{4} \leq x < \frac{3\pi}{2}\right) \end{cases}$$

가 있다. 실수 t 에 대하여 다음 조건을 만족시키는 모든 실수 k 의 개수를 $g(t)$ 라 하자.

(가) $-\frac{\pi}{2} < k < \frac{3\pi}{2}$

(나) 함수 $\sqrt{|f(x)-t|}$ 는 $x=k$ 에서 미분가능하지 않다.

함수 $g(t)$ 에 대하여 합성함수 $(h \circ g)(t)$ 가 실수 전체의 집합에서 연속이 되도록 하는 최고차항의 계수가 1인 사차함수 $h(x)$ 가 있다. $g\left(\frac{\sqrt{2}}{2}\right) = a$, $g(0) = b$, $g(-1) = c$ 라 할 때, $h(a+5) - h(b+3) + c$ 의 값은? [4점]

- ① 96 ② 97 ③ 98 ④ 99 ⑤ 100



29. 좌표평면 위에 $\overline{AB}=5$ 인 두 점 A, B를 각각 중심으로 하고 반지름의 길이가 5인 두 원을 각각 O_1, O_2 라 하자. 원 O_1 위의 점 C와 원 O_2 위의 점 D가 다음 조건을 만족시킨다.

$$(가) \cos(\angle CAB) = \frac{3}{5}$$

$$(나) \overrightarrow{AB} \cdot \overrightarrow{CD} = 30 \text{ 이고 } |\overrightarrow{CD}| < 9 \text{ 이다.}$$

선분 CD를 지름으로 하는 원 위의 점 P에 대하여 $\overrightarrow{PA} \cdot \overrightarrow{PB}$ 의 최댓값이 $a+b\sqrt{74}$ 이다. $a+b$ 의 값을 구하시오.
(단, a, b 는 유리수이다.) [4점]



30. 실수 전체의 집합에서 미분가능한 함수 $f(x)$ 에 대하여 곡선 $y=f(x)$ 위의 점 $(t, f(t))$ 에서의 접선의 y 절편을 $g(t)$ 라 하자.

모든 실수 t 에 대하여

$$(1+t^2)\{g(t+1)-g(t)\}=2t$$

이고, $\int_0^1 f(x)dx = -\frac{\ln 10}{4}$, $f(1) = 4 + \frac{\ln 17}{8}$ 일 때, $2\{f(4)+f(-4)\} - \int_{-4}^4 f(x)dx$ 의 값을 구하시오. [4점]



1) 정답 ①

$\angle FCO = \alpha$ 라 하면 $\angle FBO = 2\alpha$ 이므로

점 B가 원의 중심이고 점 C와 점 F는 원위의 점이므로 $\tan \alpha = \tan \angle CFB = \frac{1}{4}$ 이다.

따라서 $\tan 2\alpha = \frac{2\tan \alpha}{1 - \tan^2 \alpha} = \frac{8}{15}$ 이므로 $\overline{OF} : \overline{BO} : \overline{BF} = 8 : 15 : 17$ 이다.

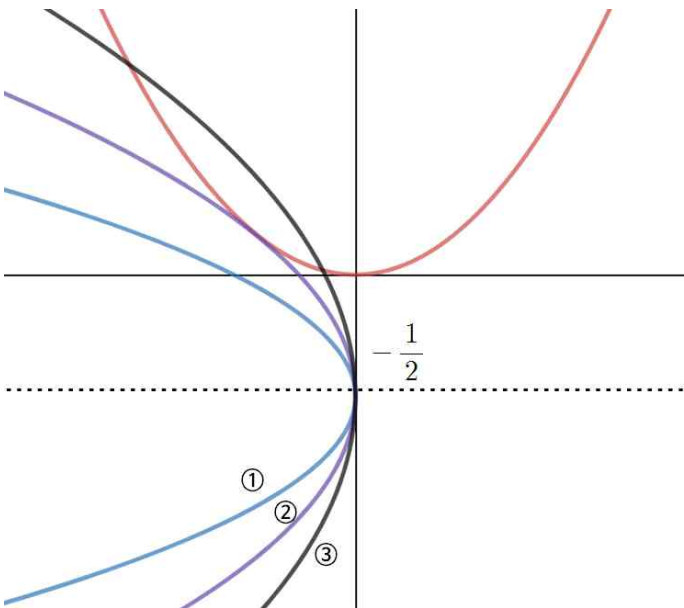
$\overline{BF} = \overline{CB}$ 이고, 타원의 정의에 의해 $\overline{BF} : \overline{OA}$ 이므로

$\overline{CO} : \overline{OA} = 32 : 17$ 이다.

$$\therefore \tan(\alpha + \theta) = \frac{17}{32}$$

$$\tan \alpha = \frac{1}{4} \text{에서 } \tan \theta = \frac{\frac{17}{32} - \frac{1}{4}}{1 + \frac{17}{32} \cdot \frac{1}{4}} = \frac{36}{145}$$

2) 정답 ③



이차곡선 $\left(y + \frac{1}{2}\right)^2 = 4px$ 이 위 그림에서

- ①의 경우 공통접선이 3개,
- ②의 경우 공통접선이 2개
- ③의 경우 공통접선이 1개 이므로

$\lim_{p \rightarrow k^+} f(p) > f(k)$ 를 만족하는 경우는 p 의 크기가 증가하며 ① \rightarrow ②임을 알 수 있다.

따라서 p 는 음수이고 극한값 k 는 두 이차곡선이 접할 때 p 의 값이 된다.

두 곡선의 접점을 (x_1, y_1) 이라고 하면

$$x^2 = 2y \text{에서 } \frac{dy}{dx} = x_1 \text{이고,}$$

$$\left(y + \frac{1}{2}\right)^2 = 4px \text{에서 } \frac{dy}{dx} = \frac{2p}{y_1 + \frac{1}{2}} \text{이므로 두 식을 연립하면}$$

$$2p = x_1 \left(y_1 + \frac{1}{2}\right) \text{이고 이 식을 } \left(y_1 + \frac{1}{2}\right)^2 = 4px_1 \text{에 대입하면}$$

$$y_1 = \frac{1}{6}, x_1 = \pm \frac{1}{\sqrt{3}} \text{가 된다. } p \text{가 음수이므로}$$

$$\therefore p = -\frac{\sqrt{3}}{9}$$

3) 정답 ③

$c = 2k_1, d = 2k_2$ 을 $2a + 2b + c + d = 2n$ 에 대입하면,

$2a + 2b + 2k_1 + 2k_2 = 2n$ 에서 $a + b + k_1 + k_2 = n$ 를 만족하는

음이 아닌 정수의 순서쌍의 개수는 ${}_4H_n$ 이다.

(가) ${}_4H_n$ 에서 $f(6) = {}_4H_6 = {}_9C_3 = 84 \dots$ ①

$c = 2k_3 + 1, d = 2k_4 + 1$ 을 $2a + 2b + c + d = 2n$ 에 대입하면,

$2a + 2b + 2k_3 + 2k_4 = 2n - 2$ 에서 $a + b + k_3 + k_4 = n - 1$ 를 만족하는

음이 아닌 정수의 순서쌍의 개수는 ${}_4H_{n-1}$ 이다.

(나) ${}_4H_{n-1}$ 에서 $g(5) = {}_4H_4 = {}_7C_3 = 35 \dots$ ②

$\sum_{n=1}^m$ (나) = $\sum_{n=1}^m {}_4H_{n-1} = {}_3C_3 + {}_4C_3 + {}_5C_3 + \dots + {}_{m+2}C_3 = {}_{m+3}C_4$ 에서

$\sum_{n=1}^m$ (가) = $\sum_{n=1}^m {}_4H_n = {}_4C_3 + {}_5C_3 + \dots + {}_{m+3}C_3 = {}_{m+4}C_4 - 1$ 임을

알 수 있다.

따라서,

$\sum_{n=1}^8 a_n = {}_{12}C_4 - 1 + {}_{11}C_4 = 824$ 이다. $r = 824 \dots$ ③

①, ②, ③에 의해

$f(6) + g(5) + r = 943$

4) 정답 48

$n = 3k$ (k 는 자연수)로 놓고 $k = 1, 2, 3, \dots$ 를 차례대로 대입하여 판단하면

$n = 3k$ 일 때 b 가 3의 배수인 경우의 수는 $3 + 6 + 9 + \dots + 3k$

이 때 $a = b$ 인 경우의 수는 k 개이므로 b 가 3의 배수일 때

$a = b$ 인 확률은

$$\frac{k}{3+6+9+\dots+3k} = \frac{1}{9} \text{이므로}$$

$$\frac{k}{3+6+9+\dots+3k} = \frac{k}{3\left(\frac{k(k+1)}{2}\right)} = \frac{2}{3(k+1)} = \frac{1}{9}$$

$\therefore k = 5$

그러므로 3의 배수 중 b 가 3의 배수일 때 $a = b$ 인 확률이 $\frac{1}{9}$ 인

경우는 $n = 15$ 일 때이다. 따라서 $n = 15, 16, 17$ 일 때 확률이 $\frac{1}{9}$ 이다.

5) 정답 ②

$\int_1^{\sqrt{2}} x^3 \sqrt{x^2-1} dx$ 에서

$\sqrt{x^2-1} = t$ 라 하자.

양변을 x 에 대해 미분하면

$$\frac{2x}{2\sqrt{x^2-1}} = \frac{dt}{dx} \text{이고}$$

$x^2 = t^2 + 1$ 이므로

$$\int_0^1 (t^2+1)t^2 dt = \int_0^1 (t^4+t^2) dt = \frac{1}{5} + \frac{1}{3} = \frac{8}{15}$$

6) 정답 ⑤

$f(x)$ 의 부정적분을 $F(x)$ 라 하면,

준식은

$$\begin{aligned} & \lim_{x \rightarrow 0} \left\{ \frac{x^2+1}{x} F(x+1) - F(1) \right\} \\ &= \lim_{x \rightarrow 0} \left\{ (x^2+1) \frac{F(x+1) - F(1)}{x} \right\} \\ &= \lim_{x \rightarrow 0} \{ (x^2+1) \} \times F'(1) \\ &= f(1) \\ &= a \cos \pi \\ a \cos \pi &= 3, \therefore a = -3 \\ \therefore f(x) &= -3 \cos(\pi x^2) \\ f(-3) &= -3 \cos 9\pi = 3 \end{aligned}$$

7) 정답 ①

\overline{OP} 와 \overline{QH} 의 교점을 R이라 하면

$\angle PHQ = \theta$ 이므로 $\overline{OP} \perp \overline{QH}$ 이다.

삼각비에 의해 $\overline{HR} = \cos \theta \sin \theta = \frac{1}{2} \sin 2\theta$, $\overline{OR} = \cos^2 \theta$ 이다.

따라서 삼각형 OHR의 넓이는

$$\overline{OR} \cdot \overline{RH} \cdot \frac{1}{2} = \cos^2 \theta \cdot \frac{1}{2} \sin 2\theta \cdot \frac{1}{2} = S_1$$

피타고라스 정리에 의해 $\overline{QR} = \sqrt{1 - (\cos^2 \theta)^2}$ 이므로

삼각형 ORQ의 넓이는

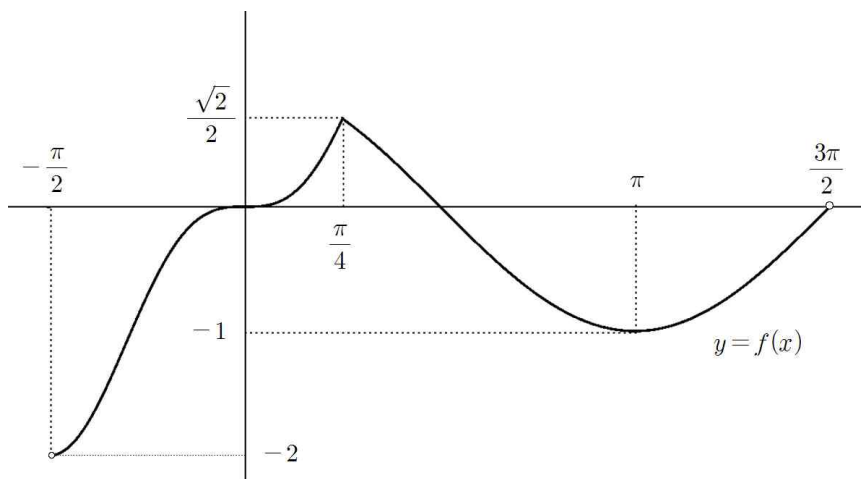
$$\overline{OR} \cdot \overline{QR} \cdot \frac{1}{2} = \cos^2 \theta \cdot \sqrt{1 - \cos^4 \theta} \cdot \frac{1}{2} = S_2$$

구하는 극한값은

$$\lim_{\theta \rightarrow 0^+} \frac{\cos^2 \theta \cdot \frac{1}{2} \sin 2\theta \cdot \frac{1}{2} + \cos^2 \theta \cdot \sqrt{1 - \cos^4 \theta} \cdot \frac{1}{2}}{\theta} = \frac{1}{2} + \frac{\sqrt{2}}{2} \text{ 이다.}$$

8) 정답 ④

함수 $y = f(x)$ 의 그래프는 아래와 같다.



$$y = \sqrt{|f(x) - t|} = \begin{cases} \sqrt{f(x) - t} & (f(x) \geq t) \\ \sqrt{-f(x) + t} & (f(x) < t) \end{cases} \text{ 를 } x \text{에 대해 미분하면 } y' = \begin{cases} \frac{f'(x)}{2\sqrt{f(x) - t}} & (f(x) \geq t) \\ \frac{-f'(x)}{2\sqrt{-f(x) + t}} & (f(x) < t) \end{cases}$$

$\lim_{x \rightarrow \frac{\pi}{4}^-} f(x) = f\left(\frac{\pi}{4}\right) = \frac{\sqrt{2}}{2}$ 이므로 $f(x)$ 는 $x = \frac{\pi}{4}$ 에서 연속이다.

하지만, $\lim_{x \rightarrow \frac{\pi}{4}^-} f'(x) = \frac{3\sqrt{2}}{2}$, $\lim_{x \rightarrow \frac{\pi}{4}^+} f'(x) = -\frac{\sqrt{2}}{2}$ 이므로 $x = \frac{\pi}{4}$ 에서 미분가능하지 않다.

또한 $y = f(x)$ 와 $y = t$ 가 만나는 점에서 미분가능하지 않다.

$t = -1$ 일 때 즉, $y = \sqrt{1 + \cos t}$ 의 $x = \pi$ 에서의 미분가능성을 조사해보면

$$\lim_{h \rightarrow 0} \frac{\sqrt{1 + \cos(\pi + h)}}{h}$$

$$= \lim_{h \rightarrow 0} \frac{\sqrt{1 - \cos h}}{h}$$

$$= \lim_{h \rightarrow 0} \frac{\sqrt{2\sin^2 \frac{h}{2}}}{h}$$

$$= \lim_{h \rightarrow 0} \frac{\sqrt{2} \left| \sin \frac{h}{2} \right|}{h}$$

에서

$$\lim_{h \rightarrow 0^-} \frac{\sqrt{1 + \cos(\pi + h)}}{h} = -\frac{\sqrt{2}}{2},$$

$$\lim_{h \rightarrow 0^+} \frac{\sqrt{1 + \cos(\pi + h)}}{h} = \frac{\sqrt{2}}{2}$$

이므로 $x = \pi$ 에서 미분가능하지 않다.

t 의 값의 범위에 따른 $g(t)$ 의 값을 구해보면

$$g(t) = \begin{cases} 1 & (t \leq -2) \\ 2 & (-2 < t < -1) \\ 3 & (t = -1) \\ 4 & (-1 < t < 0) \\ 2 & (t = 0) \\ 3 & \left(0 < t < \frac{\sqrt{2}}{2}\right) \\ 1 & \left(t \geq \frac{\sqrt{2}}{2}\right) \end{cases}$$

따라서 $a = g\left(\frac{\sqrt{2}}{2}\right) = 1$, $b = g(0) = 2$, $c = g(-1) = 3$ 이다.

또한, 함수 $h(g(t))$ 가 실수 전체에서 연속이므로

$$h(1) = h(2) = h(3) = h(4) \text{이 성립하고}$$

$h(x)$ 는 최고차항의 계수가 1인 사차함수이므로

$$h(x) = (x-1)(x-2)(x-3)(x-4) + k \text{라 할 수 있다.}$$

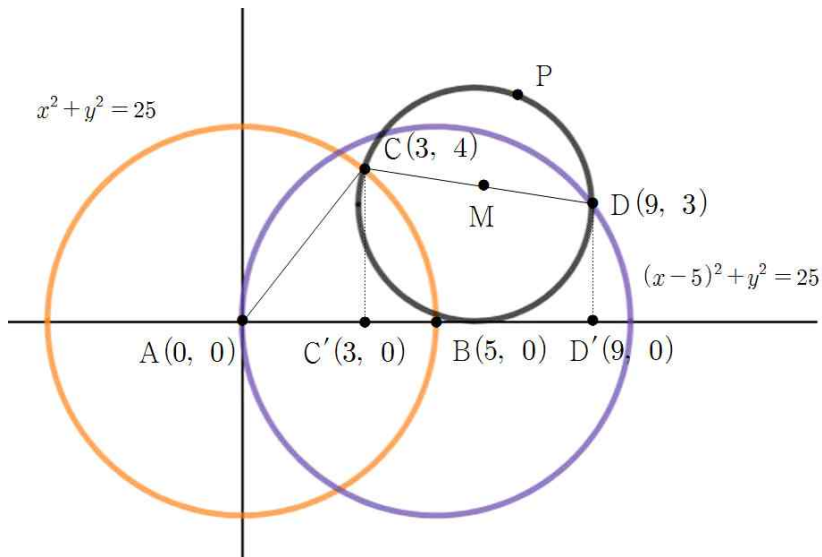
$$\therefore h(a+5) - h(b+3) + c$$

$$= h(6) - f(5) + 3$$

$$= (120 + k) - (24 + k) + 3$$

$$= 99$$

9) 정답 31



그림과 같이 점 A를 원점으로 하는 좌표평면을 생각하자.

조건 (가)에 의해 점 C의 좌표는 C(3, 4)가 된다.

두 점 C, D에서 x에 내린 수선을 받을 각각 C', D'이라 하면

조건 (나)에 의해 선분 C'D'의 길이는 6이 된다.

또한, $|\overline{CD}| < 9$ 이므로 점 D의 y좌표는 양수가 되어야 하므로 점 D의 좌표는 D(9, 3)이 된다.

선분 CD의 중점을 M이라 하면 점 P는 점 $M\left(6, \frac{7}{2}\right)$ 을 중심으로 하고 반지름의 길이가 $\frac{\sqrt{37}}{2}$ 인 원 위의 점이므로 점 P좌표는

$P\left(6 + \frac{\sqrt{37}}{2}\cos\theta, \frac{7}{2} + \frac{\sqrt{37}}{2}\sin\theta\right)$ 와 같이 잡을 수 있다.

A(0, 0), B(5, 0)이므로

$$\begin{aligned} & \overrightarrow{PA} \cdot \overrightarrow{PB} \\ &= \overrightarrow{AP} \cdot \overrightarrow{BP} \\ &= \left(6 + \frac{\sqrt{37}}{2}\cos\theta, \frac{7}{2} + \frac{\sqrt{37}}{2}\sin\theta\right) \cdot \left(1 + \frac{\sqrt{37}}{2}\cos\theta, \frac{7}{2} + \frac{\sqrt{37}}{2}\sin\theta\right) \\ &= \left(6 + \frac{\sqrt{37}}{2}\cos\theta\right)\left(1 + \frac{\sqrt{37}}{2}\cos\theta\right) + \left(\frac{7}{2} + \frac{\sqrt{37}}{2}\sin\theta\right)^2 \\ &= \frac{55}{2} + \frac{7\sqrt{37}}{2}(\cos\theta + \sin\theta) \\ &= \frac{55}{2} + \frac{7\sqrt{74}}{2}\sin\left(\theta + \frac{\pi}{4}\right) \\ &\leq \frac{55}{2} + \frac{7\sqrt{74}}{2} \end{aligned}$$

따라서 $a = \frac{55}{2}$, $b = \frac{7}{2}$ 이고 구하는 값은 $a + b = \frac{55}{2} + \frac{7}{2} = 31$ 이다.

10) 정답 16

$g(t)$ 는 접선의 y 절편이므로

$y = f(t)$ 의 $(t, f(t))$ 에서의 접선의 방정식은

$y = f'(t)(x-t) + f(t)$ 이므로 $g(t) = -tf'(t) + f(t)$

주어진 조건에서

$$g(t+1) - g(t) = \frac{2t}{1+t^2}$$

양변을 적분하면

$$\begin{aligned} (\text{좌변}) &= \int_0^x (g(t+1) - g(t))dt = \int_0^x g(t+1)dt - \int_0^x g(t)dt \\ &= \int_1^{x+1} g(t)dt - \int_0^x g(t)dt \\ &= \int_0^{x+1} g(t)dt - \int_0^x g(t)dt - \int_0^1 g(t)dt \\ &= \int_x^{x+1} g(t)dt - \int_0^1 g(t)dt \end{aligned}$$

$$(\text{우변}) = \int_0^x \frac{2t}{1+t^2} dt = [\ln(1+t^2)]_0^x = \ln(1+x^2)$$

$$h(x) = \int_x^{x+1} g(t)dt = \ln(1+x^2) + \int_0^1 g(t)dt \quad \dots \textcircled{7} \quad \text{이라 하자.}$$

$$\begin{aligned} \int_0^1 g(t)dt &= \int_0^1 (-tf'(t) + f(t))dt = \int_0^1 (-tf'(t))dt + \int_0^1 f(t)dt \\ &= [-tf(t)]_0^1 + 2 \int_0^1 f(t)dt \\ &= -f(1) + 2 \int_0^1 f(t)dt = -4 - \frac{\ln 17}{8} - \frac{\ln 10}{2} \end{aligned}$$

$$\begin{aligned} \int_{-4}^4 g(t)dt &= \int_{-4}^4 (-tf'(t) + f(t))dt = \int_{-4}^4 (-tf'(t))dt + \int_{-4}^4 f(t)dt \\ &= [-tf(t)]_{-4}^4 + 2 \int_{-4}^4 f(t)dt \\ &= -4f(4) - 4f(-4) + 2 \int_{-4}^4 f(t)dt \\ &= -2 \left(2\{f(4) + f(-4)\} - \int_{-4}^4 f(t)dt \right) \quad \dots \textcircled{8} \end{aligned}$$

한편 $\textcircled{7}$ 에서

$$\begin{aligned} &\int_{-4}^4 g(t)dt \\ &= h(-4) + h(-3) + h(-2) + h(-1) + h(0) + h(1) + h(2) + h(3) \\ &= \ln 17 + \ln 10 + \ln 5 + \ln 2 + 0 + \ln 2 + \ln 5 + 10 + 8 \int_0^1 g(t)dt \\ &= \ln 17 + 4\ln 10 - 32 - \ln 17 - 4\ln 10 = -32 \quad \dots \textcircled{9} \end{aligned}$$

따라서 $\textcircled{8} = \textcircled{9}$ 에서

$$\begin{aligned} -2 \left(2\{f(4) + f(-4)\} - \int_{-4}^4 f(t)dt \right) &= -32 \\ \therefore \left(2\{f(4) + f(-4)\} - \int_{-4}^4 f(t)dt \right) &= 16 \end{aligned}$$