

제2교시

수학 영역

1. $3^{1-\sqrt{5}} \times 3^{1+\sqrt{5}}$ 의 값은? [2점]

- ① $\frac{1}{9}$
- ② $\frac{1}{3}$
- ③ 1
- ④ 3
- ⑤ 9



수능수학 Big Data Analyst 김지석
수능한권 Prism 해설

$3^{1-\sqrt{5}} \times 3^{1+\sqrt{5}} = 3^{1-\sqrt{5}+1+\sqrt{5}} = 3^2 = 9$

2. 함수 $f(x) = 2x^2 - x$ 에 대하여 $\lim_{x \rightarrow 1} \frac{f(x)-1}{x-1}$ 의

값은? [2점]

- ① 1
- ② 2
- ③ 3
- ④ 4
- ⑤ 5



수능수학 Big Data Analyst 김지석
수능한권 Prism 해설

$f(1) = 1$ 이므로

$\lim_{x \rightarrow 1} \frac{f(x)-1}{x-1} = \lim_{x \rightarrow 1} \frac{f(x)-f(1)}{x-1} = f'(1)$

$f'(x) = 4x - 1$

$\therefore f'(1) = 3$

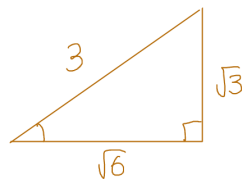
3. $\frac{3}{2}\pi < \theta < 2\pi$ 인 θ 에 대하여 $\cos \theta = \frac{\sqrt{6}}{3}$ 일 때,

$\tan \theta$ 의 값은? [3점]

- ① $-\sqrt{2}$
- ② $-\frac{\sqrt{2}}{2}$
- ③ 0
- ④ $\frac{\sqrt{2}}{2}$
- ⑤ $\sqrt{2}$



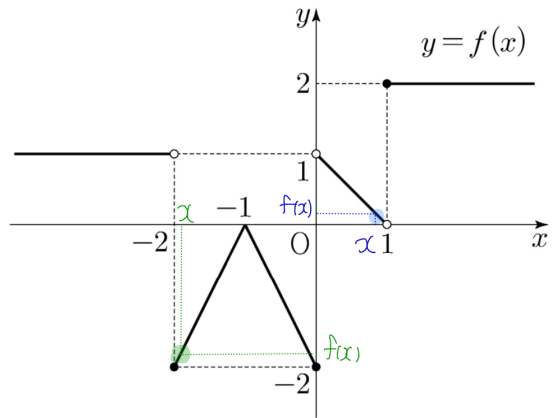
수능수학 Big Data Analyst 김지석
수능한권 Prism 해설



$\frac{3}{2}\pi < \theta < 2\pi$ 에서 $\tan \theta < 0$ 이므로

$\therefore \tan \theta = -\frac{\sqrt{2}}{2}$

4. 함수 $y = f(x)$ 의 그래프가 그림과 같다.



$\lim_{x \rightarrow -2^+} f(x) + \lim_{x \rightarrow 1^-} f(x)$ 의 값은? [3점]

- ① -2
- ② -1
- ③ 0
- ④ 1
- ⑤ 2



수능수학 Big Data Analyst 김지석
수능한권 Prism 해설

$\lim_{x \rightarrow -2^+} f(x) + \lim_{x \rightarrow 1^-} f(x)$
 $= -2 + 0 = -2$

제2교시

수학 영역

5. 모든 항이 양수인 등비수열 $\{a_n\}$ 에 대하여

$$\frac{a_3 a_8}{a_6} = 12, a_5 + a_7 = 36$$

일 때, a_{11} 의 값은? [3점]

- ① 72 ② 78 ③ 84
 ④ 90 ⑤ 96



$$\frac{a_3 a_8}{a_6} = a_3 r^2 = a_5 = 12$$

$$a_5 + a_7 = 12 + a_7 = 36 \quad \times r^2 = 2$$

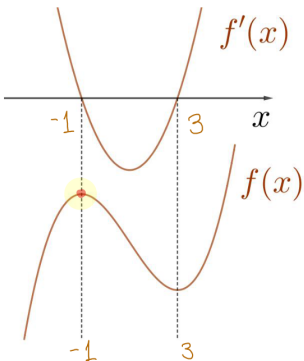
$$\therefore a_7 = 24$$

$$\therefore r^2 = 2$$

$$\therefore a_{11} = a_7 r^4 = 24 \times 2^2$$

6. 함수 $f(x) = x^3 + ax^2 + bx + 1$ 은 $x = -1$ 에서 극대이고, $x = 3$ 에서 극소이다. 함수 $f(x)$ 의 극댓값은? (단, a, b 는 상수이다.) [3점]

- ① 0 ② 3 ③ 6
 ④ 9 ⑤ 12



$$f'(x) = 3(x+1)(x-3) = 3x^2 - 6x - 9$$

$$\therefore f(x) = x^3 - 3x^2 - 9x + 1$$

$$\therefore f(-1) = 6$$

7. 두 실수 a, b 가

$$3a + 2b = \log_3 32, ab = \log_9 2$$

를 만족시킬 때, $\frac{1}{3a} + \frac{1}{2b}$ 의 값은? [3점]

- ① $\frac{5}{12}$ ② $\frac{5}{6}$ ③ $\frac{5}{4}$
 ④ $\frac{5}{3}$ ⑤ $\frac{25}{12}$



$$\frac{1}{3a} + \frac{1}{2b} = \frac{3a + 2b}{6ab} = \frac{\log_3 32}{6 \log_9 2} = \frac{5 \log_3 2}{3 \log_3 2} = \frac{5}{3}$$

8. 다항함수 $f(x)$ 가

$$f'(x) = 6x^2 - 2f(1)x, f(0) = 4$$

를 만족시킬 때, $f(2)$ 의 값은? [3점]

- ① 5 ② 6 ③ 7
 ④ 8 ⑤ 9



$$f(x) = 2x^3 - f(1)x^2 + C$$

$$= 2x^3 - f(1)x^2 + 4 \quad (\because f(0) = C = 4)$$

$$\therefore f(1) = 2 - f(1) + 4$$

$$\therefore f(1) = 3$$

$$\therefore f(x) = 2x^3 - 3x^2 + 4$$

$$\therefore f(2) = 8$$

제2교시

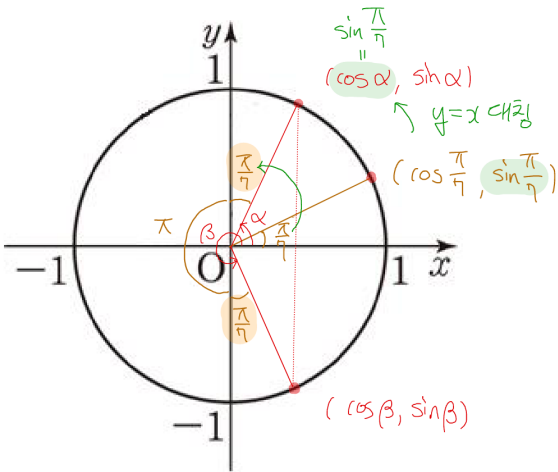
수학 영역

9. $0 \leq x \leq 2\pi$ 일 때, 부등식

$$\cos x \leq \sin \frac{\pi}{7}$$

를 만족시키는 모든 x 의 값의 범위는 $\alpha \leq x \leq \beta$ 이다. $\beta - \alpha$ 의 값은? [4점]

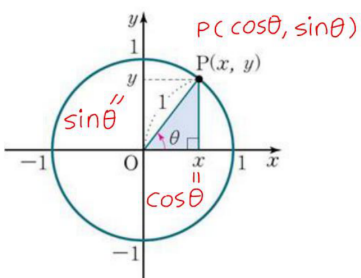
- ① $\frac{8}{7}\pi$ ② $\frac{17}{14}\pi$ ③ $\frac{9}{7}\pi$ ✓
- ④ $\frac{19}{14}\pi$ ⑤ $\frac{10}{7}\pi$



$$\therefore \beta - \alpha = \pi + \frac{\pi}{7} \times 2 = \frac{9}{7}\pi$$

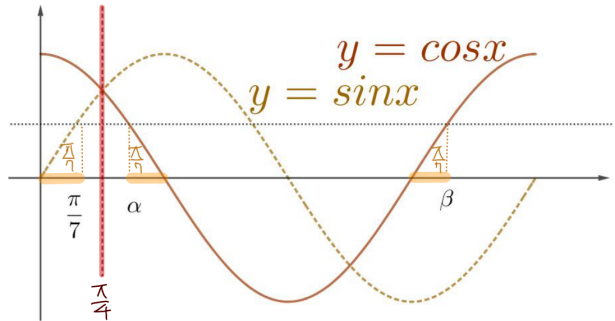
Analysis^{MM-}

단위원의 좌표와 삼각함수의 관계



[다른 풀이]

대칭성 활용!



$$\therefore \beta - \alpha = \pi + \frac{\pi}{7} \times 2 = \frac{9}{7}\pi$$

Analysis^{MM-}

삼각함수의 그래프 문제 출제 point

- ① 대칭성
- ② 주기성
- ③ 최대최소

제2교시

수학 영역

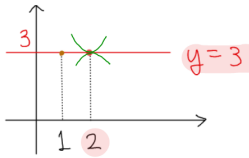
10. 최고차항의 계수가 1인 삼차함수 $f(x)$ 에 대하여 곡선 $y = f(x)$ 위의 점 $(-2, f(-2))$ 에서의 접선과 곡선 $y = f(x)$ 위의 점 $(2, 3)$ 에서의 접선이 점 $(1, 3)$ 에서 만날 때, $f(0)$ 의 값은? [4점]

- ① 31 ② 33 ③ 35
- ④ 37 ⑤ 39



수능수학 Big Data Analyst 김지석
수능한권 Prism 해설

곡선 $y = f(x)$ 위의 점 $(2, 3)$ 에서의 접선이 점 $(1, 3)$ 을 지나므로
함수 $f(x)$ 의 그래프는 $x = 2$ 에서 $y = 3$ 에 접한다.



$$f(x) - 3 = (x - 2)^2(x - a)$$

$$\therefore f(x) = (x - 2)^2(x - a) + 3$$

$$\therefore f'(x) = 2(x - 2)(x - a) + (x - 2)^2$$

점 $(-2, f(-2))$ 에서의 접선이 점 $(1, 3)$ 을 지나므로

$$f'(-2) = \frac{f(-2) - 3}{-2 - 1}$$

$$\Leftrightarrow 2 \cdot (-2)(-2 - a) + (-4)^2 = \frac{(-2 - 2)^2(-2 - a)}{-3}$$

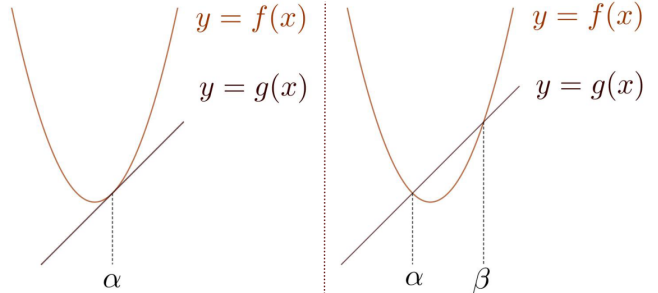
$$\therefore a = -8$$

$$\therefore f(x) = (x - 2)^2(x + 8) + 3$$

$$\therefore f(0) = 35$$

Analysis^{WR}

접선으로 함수의 식을 구하기



$$f(x) - g(x) = (x - \alpha)^2 p(x)$$

$$f(x) = (x - \alpha)^2 p(x) + g(x)$$

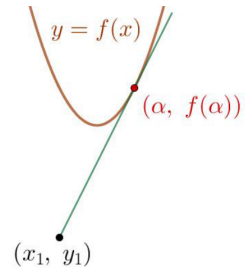
$$f(x) - g(x) = (x - \alpha)(x - \beta)p(x)$$

$$f(x) = (x - \alpha)(x - \beta)p(x) + g(x)$$

Analysis^{WR}

외부의 점 (x_1, y_1) 에서 곡선 $y = f(x)$ 에 접선을 그을 때 접점이 $(\alpha, f(\alpha))$ 라고 하면

$$f'(\alpha) = \frac{f(\alpha) - y_1}{\alpha - x_1}$$



※ 접선 $y - f(\alpha) = f'(\alpha)(x - \alpha)$ 에 (x_1, y_1) 를 대입한 식과 동일하다.

제2교시

수학 영역

11. 두 점 P와 Q는 시각 $t=0$ 일 때 각각 점 A(1)과 점 B(8)에서 출발하여 수직선 위를 움직인다. 두 점 P, Q의 시각 $t (t \geq 0)$ 에서의 속도는 각각

$$v_1(t) = 3t^2 + 4t - 7, v_2(t) = 2t + 4$$

이다. 출발한 시각부터 두 점 P, Q 사이의 거리가 처음으로 4가 될 때까지 점 P가 움직인 거리는? [4점]

- ① 10 ② 14 ③ 19
- ④ 25 ⑤ 32



수능수학 Big Data Analyst 김지석
수능한권 Prism 해설

점 P의 위치를 $x_1(t)$,

점 Q의 위치를 $x_2(t)$ 라 하자.

$$x_1(t) = 1 + \int_0^t (3t^2 + 4t - 7) dt = t^3 + 2t^2 - 7t + 1$$

$$x_2(t) = 8 + \int_0^t (2t + 4) dt = t^2 + 4t + 8$$

두 점 P, Q 사이의 거리가 4이므로

$$|x_1(t) - x_2(t)| = 4$$

$$\Leftrightarrow |t^3 + t^2 - 11t - 7| = 4$$

i) $t^3 + t^2 - 11t - 7 = 4$ 일 때

$$t^3 + t^2 - 11t - 11 = 0$$

$$\Leftrightarrow (t+1)(t^2 - 11) = 0$$

$$\therefore t = \sqrt{11} \quad (t > 0)$$

ii) $t^3 + t^2 - 11t - 7 = -4$ 일 때

$$t^3 + t^2 - 11t - 3 = 0$$

$$\Leftrightarrow (t-3)(t^2 + 4t + 1) = 0$$

$$\therefore t = 3 \quad (t > 0)$$

두 점 P, Q 사이의 거리가 처음으로 4가 되는 건

$$t = 3 \text{ 일 때 } (\because 3 < \sqrt{11})$$

점 P가 $t=0$ 에서 $t=3$ 까지 움직인 거리는

$$\begin{aligned} \int_0^3 |v_1(t)| dt &= \int_0^3 |3t^2 + 4t - 7| dt \\ &= -\int_0^1 (3t^2 + 4t - 7) dt + \int_1^3 (3t^2 + 4t - 7) dt \\ &= -\left[t^3 + 2t^2 - 7t\right]_0^1 + \left[t^3 + 2t^2 - 7t\right]_1^3 = 32 \end{aligned}$$

12. 첫째항이 자연수인 수열 $\{a_n\}$ 이 모든 자연수 n 에 대하여

$$a_{n+1} = \begin{cases} a_n + 1 & (a_n \text{이 홀수인 경우}) \\ \frac{1}{2}a_n & (a_n \text{이 짝수인 경우}) \end{cases}$$

를 만족시킬 때, $a_2 + a_4 = 40$ 이 되도록 하는 모든

a_1 의 값의 합은? [4점]

- ① 172 ② 175 ③ 178
- ④ 181 ⑤ 184



수능수학 Big Data Analyst 김지석
수능한권 Prism 해설

▶ 수열 $\{a_n\}$ 의 모든 항은 자연수로 구성된다.

(홀수 or 짝수)

▶ $a_2 + a_4 = 40$ 가 단서로 나왔으면

→ a_3 에 대해서 파악할 생각을 해야 한다!

	a_2	a_3	a_4
i) 홀수	a_2	$a_2 + 1$	$\frac{1}{2}(a_2 + 1)$
ii) 4배수	a_2	$\frac{1}{2}a_2$	$\frac{1}{4}a_2$
iii) 4배X 2배수	a_2	$\frac{1}{2}a_2$	$\frac{1}{2}a_2 + 1$

i) a_2 가 홀수인 경우

$$a_2 + a_4 = a_2 + \frac{1}{2}(a_2 + 1) = \frac{3}{2}a_2 + \frac{1}{2} = 40$$

$$\therefore a_2 = \frac{79}{3} \quad (\text{자연수가 아니므로 모순})$$

ii) a_2 가 4배수인 경우

$$a_2 + a_4 = a_2 + \frac{1}{4}a_2 = \frac{5}{4}a_2 = 40$$

$$\therefore a_2 = 32$$

$$\therefore a_1 = 31 \text{ or } 64$$

iii) a_2 가 4배수가 아닌 짝수인 경우

$$a_2 + a_4 = a_2 + \left(\frac{1}{2}a_2 + 1\right) = \frac{3}{2}a_2 + 1 = 40$$

$$\therefore a_2 = 26$$

$$\therefore a_1 = 25 \text{ or } 52$$

$$\text{모든 } a_1 \text{의 값은 } 25 + 31 + 52 + 64 = 172$$

제2교시

수학 영역

13. 두 실수 a, b 에 대하여 함수

$$f(x) = \begin{cases} -\frac{1}{3}x^3 - ax^2 - bx & (x < 0) \\ \frac{1}{3}x^3 + ax^2 - bx & (x \geq 0) \end{cases}$$

이 구간 $(-\infty, -1]$ 에서 감소하고 구간 $[-1, \infty)$ 에서 증가할 때, $a+b$ 의 최댓값을 M , 최솟값을 m 이라 하자. $M-m$ 의 값은? [4점]

- ① $\frac{3}{2} + 3\sqrt{2}$ ② $3 + 3\sqrt{2}$ ③ $\frac{9}{2} + 3\sqrt{2}$
 ④ $6 + 3\sqrt{2}$ ⑤ $\frac{15}{2} + 3\sqrt{2}$

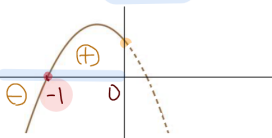


수능수학 Big Data Analyst 김지석
수능한권 Prism 해설

함수 $f(x)$ 가 구간 $(-\infty, -1]$ 에서 감소
 $\Leftrightarrow f'(x) \leq 0$
 함수 $f(x)$ 가 구간 $[-1, \infty)$ 에서 증가
 $\Leftrightarrow f'(x) \geq 0$

$$f'(x) = \begin{cases} -x^2 - 2ax - b & (x \leq 0) \\ x^2 + 2ax - b & (x > 0) \end{cases}$$

(Step1) $x \leq 0$ 에서의 $f'(x)$



$x \leq 0$ 에서 $f'(x) = -x^2 - 2ax - b$ 는
 $x < -1$ 에서 \ominus
 $-1 < x \leq 0$ 에서 \oplus
 $\therefore f'(-1) = 0$
 $\Leftrightarrow -1 + 2a - b = 0$
 $\therefore b = 2a - 1$

구하는 답 $a+b = a + (2a-1) = 3a-1$ 이므로
 a 의 범위를 구하면 된다.

$$f'(0) \geq 0$$

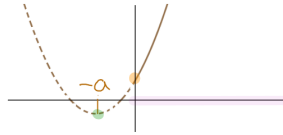
$$\Leftrightarrow -b \geq 0 \Leftrightarrow b \leq 0$$

$$\therefore a \leq \frac{1}{2} \quad (\because b = 2a - 1)$$

(Step2) $x \geq 0$ 에서의 $f'(x)$

$x \geq 0$ 에서 $f'(x) = x^2 + 2ax - b \geq 0$
 $y = x^2 + 2ax - b$ 의 꼭짓점의 x 좌표는 $-a$

i) 꼭짓점 x 좌표 $-a \leq 0 \Leftrightarrow a \geq 0$



$x \geq 0$ 에서 $f'(x) \geq 0$ 이므로

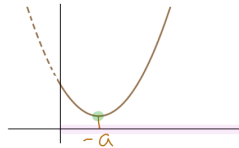
$$f'(0) \geq 0$$

$$\Leftrightarrow -b \geq 0 \Leftrightarrow b \leq 0$$

$$\therefore a \leq \frac{1}{2} \quad (\because b = 2a - 1)$$

$$\therefore \underline{0 \leq a \leq \frac{1}{2}}$$

ii) 꼭짓점 x 좌표 $-a > 0 \Leftrightarrow a < 0$



$$\frac{D}{4} = a^2 + b = a^2 + 2a - 1 \leq 0$$

$$\Leftrightarrow -1 - \sqrt{2} \leq a \leq -1 + \sqrt{2}$$

$$\therefore \underline{-1 - \sqrt{2} \leq a < 0}$$

\therefore i, ii)에 의하여

$$\underline{-1 - \sqrt{2} \leq a \leq \frac{1}{2}}$$

$a+b = 3a-1$ 의

최대 $M = \frac{1}{2}$ ($a = \frac{1}{2}$ 일 때)

최소 $m = -4 - 3\sqrt{2}$ ($a = -1 - \sqrt{2}$ 일 때)

$$\therefore M - m = \frac{9}{2} + 3\sqrt{2}$$

제2교시

수학 영역

14. 두 자연수 a, b 에 대하여 함수

$$f(x) = \begin{cases} 2^{x+a} + b & (x \leq -8) \\ -3^{x-3} + 8 & (x > -8) \end{cases}$$

이 다음 조건을 만족시킬 때, $a+b$ 의 값은? [4점]

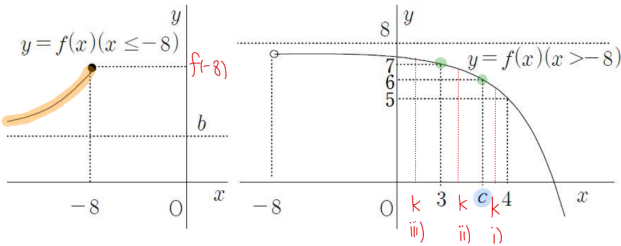
집합 $\{f(x) | x \leq k\}$ 의 원소 중 정수인 것의 개수가 2가 되도록 하는 모든 실수 k 의 값의 범위는 $3 \leq k < 4$ 이다.

- ① 11 ② 13 ③ 15
 ④ 17 ⑤ 19



수능수학 Big Data Analyst 김지석
수능한권 Prism 해설

각 구간마다 $f(x)$ 의 그래프는 아래와 같다.



문제 조건 $3 \leq k < 4$ 에서

i) $c \leq k < 4$ 인 경우

- $-8 < x < k$ 에서 정수 $f(x) = 6, 7$ 로 2개
- $\therefore x \leq -8$ 에서 정수 $f(x) = 6$ or 7 뿐이다.
- $\therefore x \leq -8$ 에서 $5 < f(x) < 8$
- $\therefore b \geq 5$

ii) $3 \leq k < c$ 인 경우

- $-8 < x < k$ 에서 정수 $f(x) = 7$ 로 1개
- $\therefore x \leq -8$ 에서 정수 $f(x) = 6$ 이 반드시 존재해야 한다.
- $\therefore b = 5, f(-8) \geq 6$

iii) $k < 3$ 인 경우

- $x \leq -8$ 에서 정수 $f(x)$ 는 2개 미만이어야 한다.
- $\therefore x \leq -8$ 에서 $5 < f(x) < 7$
- $\therefore 6 \leq f(-8) < 7$
- $\Leftrightarrow 6 \leq 2^{a-8} + 5 < 7$
- $\Leftrightarrow 1 \leq 2^{a-8} < 2$
- $\Leftrightarrow 0 \leq a-8 < 1$
- $\therefore a = 8$ ($\because a$ 는 자연수)
- $\therefore a+b = 8+5 = 13$

15. 최고차항의 계수가 1인 삼차함수 $f(x)$ 에 대하여 함수 $g(x)$ 를

$$g(x) = \begin{cases} \frac{f(x+3)\{f(x)+1\}}{f(x)} & (f(x) \neq 0) \\ 3 & (f(x) = 0) \end{cases}$$

이라 하자. $\lim_{x \rightarrow 3} g(x) = g(3) - 1$ 일 때, $g(5)$ 의 값은?

[4점]

- ① 14 ② 16 ③ 18
 ④ 20 ⑤ 22



수능수학 Big Data Analyst 김지석
수능한권 Prism 해설

$\lim_{x \rightarrow 3} g(x) \neq g(3)$ 이므로

- $g(x)$ 는 $x=3$ 에서 불연속
- $g(x)$ 는 $f(x)=0$ 일 때 불연속 가능성 존재
- $\therefore f(3)=0$

$$\lim_{x \rightarrow 3} g(x) = g(3) - 1 = 3 - 1 = 2$$

$$= \lim_{x \rightarrow 3} \frac{f(x+3)\{f(x)+1\}}{f(x)} = 2$$

$x \rightarrow 3$ 일 때 (분모) $\rightarrow 0$ 이고 극한값이 존재하므로 (분자) $\rightarrow 0$

$$\therefore f(6)=0 \text{ or } f(3)=-1 \quad (\because f(3)=0)$$

$$\therefore f(x) = (x-3)(x-6)(x+a)$$

$$\lim_{x \rightarrow 3} \frac{f(x+3)\{f(x)+1\}}{f(x)} = 2$$

$$= \lim_{x \rightarrow 3} \frac{x(x-3)(x+a+3)\{f(x)+1\}}{(x-3)(x-6)(x+a)}$$

$$= \frac{3(a+6)\{f(3)+1\}}{-3(a+3)}$$

$$= -\frac{a+6}{a+3} \quad (\because f(3)=0)$$

$$= 2$$

$$\therefore a = -4$$

$$\therefore f(x) = (x-3)(x-6)(x-4)$$

$$\therefore g(5) = \frac{f(8)\{f(5)+1\}}{f(5)} = 20$$

제2교시

수학 영역

16. 방정식 $\log_2(x-1) = \log_4(13+2x)$ 를 만족시키는 실수 x 의 값을 구하시오. [3점]



수능수학 Big Data Analyst 김지석
수능한권 Prism 해설

6

진수조건에 의하여 $x > 1$

$$\log_2(x-1) = \log_4(x-1)^2$$

$$\Leftrightarrow \log_4(x-1)^2 = \log_4(13+2x)$$

$$\Leftrightarrow (x-1)^2 = 13+2x$$

$$\Leftrightarrow (x-6)(x+2) = 0$$

$$\therefore x = 6 \quad (\because x > 1)$$

17. 두 수열 $\{a_n\}, \{b_n\}$ 에 대하여

$$\sum_{k=1}^{10} (2a_k - b_k) = 34, \quad \sum_{k=1}^{10} a_k = 10$$

일 때, $\sum_{k=1}^{10} (a_k - b_k)$ 의 값을 구하시오. [3점]



수능수학 Big Data Analyst 김지석
수능한권 Prism 해설

24

$$\sum_{k=1}^{10} (2a_k - b_k)$$

$$= 2 \sum_{k=1}^{10} a_k - \sum_{k=1}^{10} b_k$$

$$= 2 \cdot 10 - \sum_{k=1}^{10} b_k = 34$$

$$\therefore \sum_{k=1}^{10} b_k = -14$$

$$\sum_{k=1}^{10} (a_k - b_k) = 10 - (-14) = 24$$

18. 함수 $f(x) = (x^2+1)(x^2+ax+3)$ 에 대하여 $f'(1) = 32$ 일 때, 상수 a 의 값을 구하시오. [3점]



수능수학 Big Data Analyst 김지석
수능한권 Prism 해설

5

$$f'(x) = (2x)(x^2+ax+3) + (x^2+1)(2x+a)$$

$$f'(1) = 2(4+a) + 2(2+a) = 4a + 12 = 32$$

$$\therefore a = 5$$

19. 두 곡선 $y = 3x^3 - 7x^2$ 과 $y = -x^2$ 으로 둘러싸인 부분의 넓이를 구하시오. [3점]



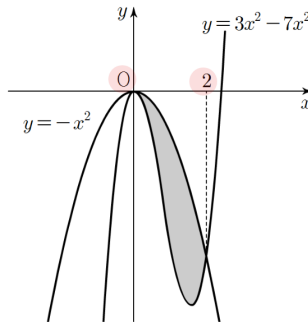
수능수학 Big Data Analyst 김지석
수능한권 Prism 해설

4

$$3x^3 - 7x^2 = -x^2$$

$$\Leftrightarrow 3x^3 - 6x^2 = 0$$

$$\therefore x = 0 \text{ or } 2$$

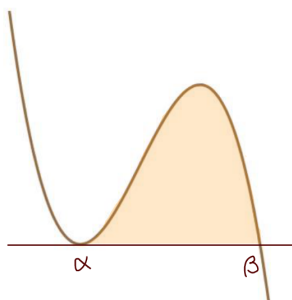


$$\int_0^2 \{-x^2 - (3x^3 - 7x^2)\} dx = \int_0^2 (-3x^3 + 6x^2) dx$$

$$= \frac{3}{12} \cdot 2^4 = 4$$

Analysis^W

$$\text{넓이} = \frac{|a|}{12} (\beta - \alpha)^4$$



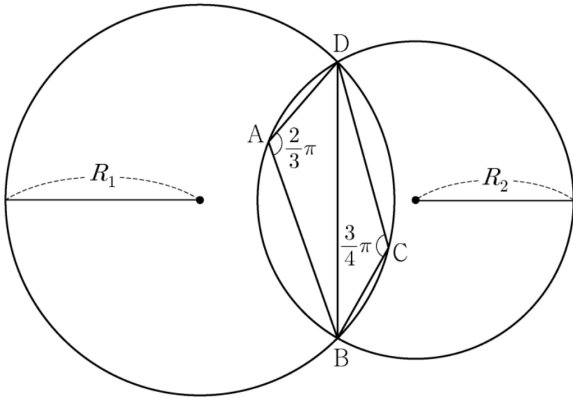
제2교시

수학 영역

20. 그림과 같이

$$\overline{AB} = 2, \overline{AD} = 1, \angle DAB = \frac{2}{3}\pi, \angle BCD = \frac{3}{4}\pi$$

인 사각형 ABCD가 있다. 삼각형 BCD의 외접원의 반지름의 길이를 R_1 , 삼각형 ABD의 외접원의 반지름의 길이를 R_2 라 하자.



다음은 $R_1 \times R_2$ 의 값을 구하는 과정이다.

삼각형 BCD에서 사인법칙에 의하여

$$R_1 = \frac{\sqrt{2}}{2} \times \overline{BD}$$

이고, 삼각형 ABD에서 사인법칙에 의하여

$$R_2 = \boxed{\text{가}} \times \overline{BD}$$

이다. 삼각형 ABD에서 코사인법칙에 의하여

$$\overline{BD}^2 = 2^2 + 1^2 - (\boxed{\text{나}})$$

이므로

$$R_1 \times R_2 = \boxed{\text{다}}$$

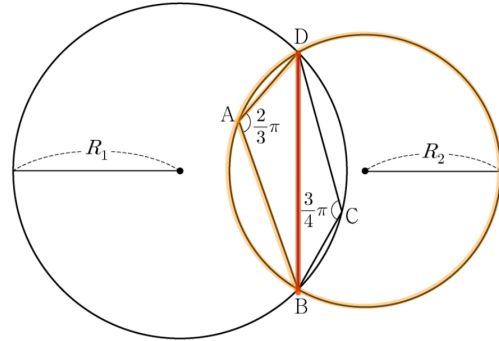
이다.

위의 (가), (나), (다)에 알맞은 수를 각각 p, q, r 이라 할 때, $9 \times (p \times q \times r)^2$ 의 값을 구하시오. [4점]



수능수학 Big Data Analyst 김지석
수능한권 Prism 해설

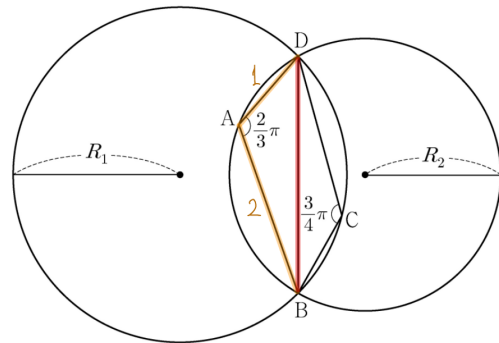
98



$\triangle ABD$ 에서 사인법칙에 의하여

$$\frac{\overline{BD}}{\sin \frac{2}{3}\pi} = 2R_2$$

$$\therefore R_2 = \frac{\sqrt{3}}{3} \times \overline{BD}$$



$\triangle ABD$ 에서 코사인법칙에 의하여

$$\overline{BD}^2 = 2^2 + 1^2 - 2 \times 2 \times 1 \times \cos \frac{2\pi}{3}$$

$$= 2^2 + 1^2 - (\boxed{-2}) = 7$$

$$\therefore \overline{BD} = \sqrt{7}$$

$$\therefore R_1 \times R_2 = \frac{\sqrt{2}}{2} \times \frac{\sqrt{3}}{3} \times \overline{BD}^2 = \boxed{\frac{7}{6} \sqrt{6}}$$

$$\therefore p = \frac{\sqrt{3}}{3}, q = -2, r = \frac{7}{6} \sqrt{6}$$

$$\therefore 9(pqr)^2 = 9 \left(\frac{\sqrt{3}}{3} \times (-2) \times \frac{7\sqrt{6}}{6} \right)^2 = 98$$

제2교시

수학 영역

21. 모든 항이 자연수인 등차수열 $\{a_n\}$ 의 첫째항부터 제 n 항까지의 합을 S_n 이라 하자. a_7 이 13의 배수이고 $\sum_{k=1}^7 S_k = 644$ 일 때, a_2 의 값을 구하시오. [4점]



수능수학 Big Data Analyst 김지석
수능한권 Prism 해설

19

$$S_n = \frac{d}{2}n^2 + \left(a_1 - \frac{d}{2}\right)n$$

$$\sum_{k=1}^7 S_k = \sum_{k=1}^7 \left\{ \frac{d}{2}k^2 + \left(a_1 - \frac{d}{2}\right)k \right\} = 644$$

$$= \frac{d}{2} \left(\frac{7 \cdot 8 \cdot 15}{8 \cdot 2} \right) + \left(a_1 - \frac{d}{2}\right) \frac{7 \cdot 8}{2} = 7 \cdot 2^2 \cdot 23$$

$$\therefore a_1 + 2d = 23$$

a_7 이 13의 배수이므로 자연수 m 에 대하여

$$a_7 = a_1 + 6d = 13m$$

$$\therefore 4d = 13m - 23 = -10, 3, 16, 29, \dots$$

모든 항이 자연수이므로 공차 d 도 자연수이다.

$$\therefore 4d = 16, d = 4, a_1 = 15$$

$$\therefore a_2 = a_1 + d = 15 + 4 = 19$$

Analysis^{Mr}

등차수열의 합

공차가 d 인 등차수열의 첫째항부터 n 항까지의 합

$$\textcircled{1} S_n = \frac{(a_1 + a_n)}{2} \times n$$

$$\textcircled{2} S_n = \frac{n\{2a_1 + (n-1)d\}}{2}$$

$$\textcircled{3} S_n = \frac{d}{2}n^2 + \left(a_1 - \frac{d}{2}\right)n$$

Analysis^{Mr}

“자연수, 정수” 조건이 나오면

케이스 나열을 해서 문제를 풀 생각을 해내자.

특히 이때 약수 배수 관계를 활용해야 할 때가 많다.

제2교시

수학 영역

22. 두 다항함수 $f(x), g(x)$ 에 대하여 $f(x)$ 의 한 부정적분을 $F(x)$ 라 하고 $g(x)$ 의 한 부정적분을 $G(x)$ 라 할 때,
이 함수들은 모든 실수 x 에 대하여 다음 조건을 만족시킨다.

(가) $\int_1^x f(t)dt = xf(x) - 2x^2 - 1$
 (나) $f(x)G(x) + F(x)g(x) = 8x^3 + 3x^2 + 1$

$\int_1^3 g(x)dx$ 의 값을 구하시오. [4점]



수능수학 Big Data Analyst 김지석
수능한권 Prism 해설

10

(Step1) 조건 (가) 분석하기

$\int_1^x f(t)dt = xf(x) - 2x^2 - 1$ 에서

① $x = 1$ 대입
 $0 = 1 \times f(1) - 2 - 1$
 $\therefore f(1) = 3$

② 미분
 $f(x) = f(x) + xf'(x) - 4x$
 $\Leftrightarrow xf'(x) = 4x$
 $\therefore f'(x) = 4$
 $\therefore f(x) = 4x + C = 4x - 1 \quad (\because f(1) = 3)$
 $\therefore F(x) = 2x^2 - x + a$

(Step2) 조건 (나) 분석하기

$f(x)G(x) + F(x)g(x)$
 $= F'(x)G(x) + F(x)G'(x)$
 $= \{F(x)G(x)\}' = 8x^3 + 3x^2 + 1$
 $\therefore F(x)G(x) = 2x^4 + x^3 + x + C_1$
 $= (2x^2 - x + a)(x^2 + x + c)$
 $\therefore G(x) = x^2 + x + c$

$\therefore \int_1^3 g(x)dx = [x^2 + x + c]_1^3 = 10$

Analysis^W

$g(x) = \int_a^x f(t)dt$ 꼴이 등장하면 꼭 해야 하는 것!

- ① $x = a$ 대입 : $g(a) = \int_a^a f(x)dx = 0$
- ② 미분 : $g'(x) = f(x)$



(독학) 도형의 필연성
 풀컬러 도형문제집
 전자책 1,000원! (한정판매)



풀컬러 손해설 기출문제집

과목별 6일완성 수능한권

